

★★★★★★★★★★

زوجي أم فردي



اسم الطالب / _____

الصف / _____

★★★★★★★★★★

ضع دائرة على العدد الفردي فيما يلي

١٠	٦٣٠	٨٩	٣٧	٤٢	٨	٢٥٥	١٦
٤٨	٥٤٣	١٩	٨١	٤٤٨	٣٦	٧٧	٩٤

ضع دائرة على العدد الزوجي فيما يلي

٩٥	٣٤٦	٦٢	٧١	٩٢٠	٣٨	٤٣	٨٤
٤٧	٩٠	٥٨	٥٢٧	٢٣	٤٧٢	٣٢	١١


لون العدد الفردي باللون الأزرق والعدد الزوجي باللون الأحمر

٣٥٨	٣٧٢	٢٤	٤٣٧	٣٨	٤٥	٣٤
٥٩	٥٠	٣٣	٥٣١	٧٣٤	٢٩	٥٠
١٢٩	٩٤٦	٤٥١	٣٩	٤٢	٣٢٦	٤٥٢
٤٧	٩٨	٧	٥٥	٢٠٨	٩٧	١٨
٣٤٢	٧٧٤	٣٠	٨٣	٢٢	٣	٦

ورقة عمل (١٣)

اسم المجتهد :- التاريخ :-.....

أقرأ



٧٤٠

٥٠٧

٦٢٠



٤٧٨


٦١١

٦٢٦

٥٩٨

اكتب





الاسم /-----/ الصف /-----/ التاريخ /-----/

البحث عن الأعداد

← اقرأ الأعداد المكتوبة بالكلمات ثم اختر العدد الصحيح من البدائل

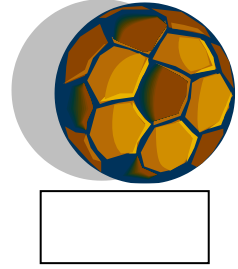



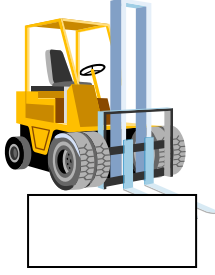
٧٠٨	٧٨	٧٧	ثمانية وسبعون	٢٦٣	٦٢٣	٢٦٣	سبعمائة وثلاثة وعشرون
٢١٠	٢٠١	٢٠٠١	مائتان وواحد	٧٨٠	٧٠٨	٧٠٧	سبعمائة وثمانية
١٦٤	٦٤١	١٤٦	مائة وأربعة وستون	٥٠٠	٠٠٥	٥٠	خمسائة
٥٧٠	٥٠٧	٥٠٠٧	خمسائة وسبعة	٣٤	٤٠٣	٤٣	ثلاثة وأربعون
١١٩	٩٢١	٩١١	تسعمائة وإحدى عشر	٣٠٤	٤٣٠	٣٤٠	أربعمائة وثلاثون

← يوجد في الورقة أعداد متطابقة ابحث عنها وقم بالتوصيل بينها بخط ثم اقرأها

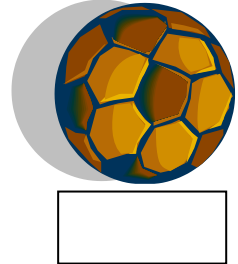




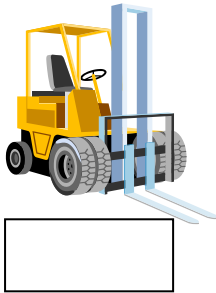
٧٦١	٢٩	٦٦٤
٣٨	٦٢٥	١٩٨
٣٠٩	١٢١	٢٥٠
٨٢٩	٥١٦	٩٠٠
٩٠٠	٨٢٩	٥١٦
٢٠٥	٦٢٥	٢٥٠
٢٩	٧٣	٣٨
٣٠٩	٦٦٤	١٢١
٢٠٥	٧٦١	٧٣
٢٩	١٩٨	٢٠٥

















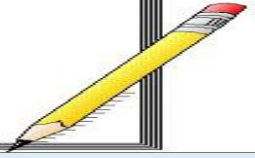
ذهب حمد الى محل بيع الهدايا ليشتري هدية
لصديقه وهذه هي الهدايا التي احتار حمد في
شرائها فكم سعرها يا ترى؟











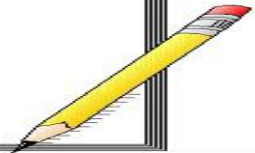
ذهب حمد الى محل بيع الهدايا ليشتري هدية
لصديقه وهذه هي الهدايا التي احتار حمد في
شرائها فكم سعرها يا ترى؟



عزيزي التلميذ /
اكتب الأعداد التي تملئ عليك:-



عزيزي التلميذ /
اكتب الأعداد التي تملئ عليك:-



729

7..

03.

98.

197

72

04

741

390

8..

432

7.

7.0

768

4.7

704

1..

872

0.

211

028

729

416

23.

7399

91

439

71.