

واجبي



لون العدد الأصغر في كل مجموعة

677 687 278 682 72 86

2862 876 6208 6082

لون العدد الأكبر في كل مجموعة

677 287 678 68 722 806

2866 2886 6278 6782

واجبي



لون العدد الأصغر في كل مجموعة

677 687 278 682 72 86

2862 876 6208 6082

لون العدد الأكبر في كل مجموعة

677 287 678 68 722 806

2866 2886 6278 6782



اليوم والتاريخ



أيها المثابر اكتب الأعداد في مكانها ثم ضع < أو > أو =

ثمانون الفا
ومائتان وستة

ستة وسبعون الفا
ومائتان وستة عشر

ثمانية وعشرون الفا
واثان وستون

ستون الاف
وستمانية وعشرون

الفان وستون الفا
وسبعة وستون

اثان وستون الفا
وسنة

ستة عشر الفا
وستمانية وستون

عشرون الفا وستمانية
وستون

ستون الفا وثمانية
وعشرون

ستون الفا وسبعة
وعشرون

سبعة وعشرون الفا
وستمانية وواحد

اثنا وسبعون الفا
وستمانية اثنا عشر



اسم الطالب / _____

الصف / _____

تعب منار اللعب ببطاقات الأرقام وتكوين أعداد مختلفة



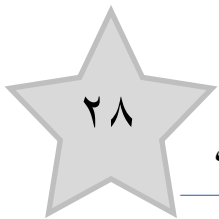
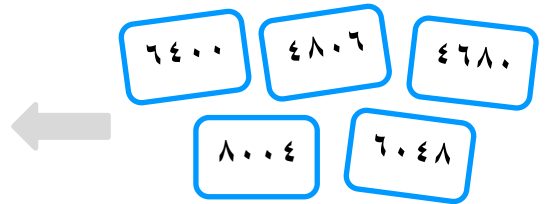
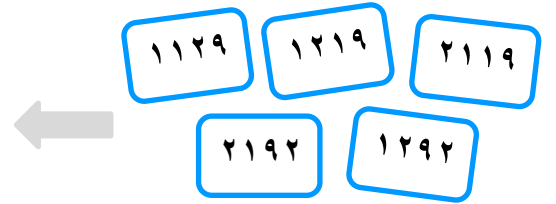
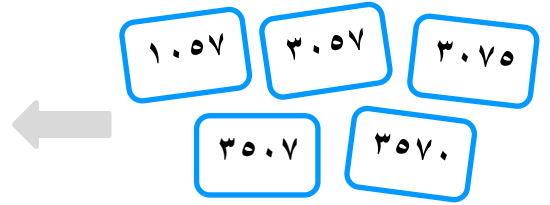
هذه الأعداد التي كونتها منار... اكتب القيمة المكانية للرقم ٥ في كل عدد

-

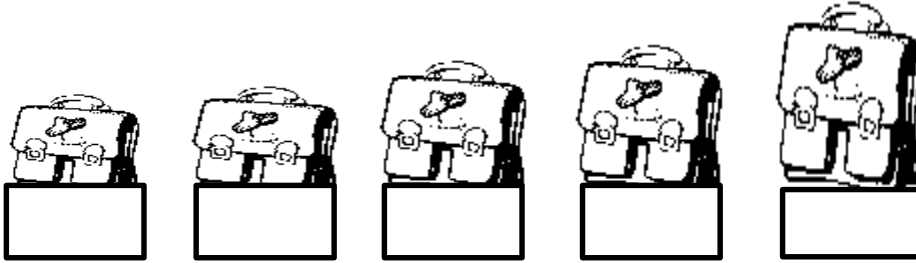
استخدم < أو > لجعل العبارات الآتية صحيحة

- ١٧٣٥ ● ١٣٧٥ ١٥٩ ● ٣٥٧ ٥٧٣٠ ● ٥٧٠٣ ٣٠٠٧ ● ٣٠٥٧
 ٧٠٥٠ ● ٧٥٠٠ ٣٠٥٧ ● ٣٠٧٥ ٥٥٠٣ ● ٥٥٣٠ ٧٣٠٥ ● ٥٣٠٧

اكتب كل مجموعة بطاقات أعداد بالترتيب مبتدئنا من الأصغر



رتب الأعداد أما من الأصغر إلى الأكبر أو العكس حسب ما تدل عليه الصور



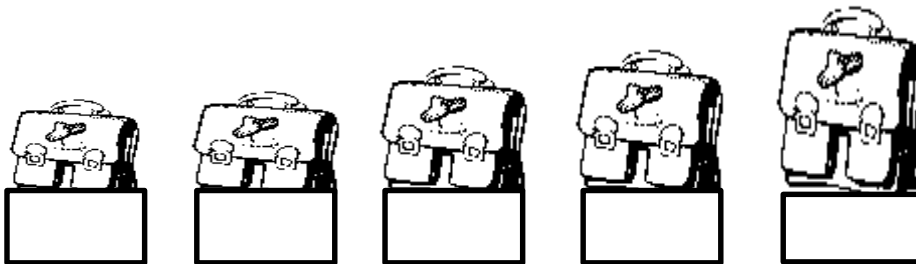
١٨٢٧ ٧١٧٨
٨٨٨٧ ٦٧٢٨
٢٨٧٨




٨٧٠٧ ١٨٧٠
٨٢٠١ ١٧٧٠
١٠٨٧



٨٢٧٧ ٢٨٦٨
٨٠٧٧ ٢١٦٠
١٨٦٨



٧٠٨٠ ٢٨٦٢
٨٠٧٢ ٩٧٨٨
٧٩٨٧



٤٣٠٦ ٣٤٠٦
٦٤٣٠ ٣٠٦٤
٤٣٦٠

رتب الأعداد أما من الأصغر إلى الأكبر أو العكس حسب اتجاه السلم

6216 2262

2762 6226

6712

Blank boxes for numbers: [] [] [] [] []

266

626 262

8266 2676

Blank boxes for numbers: [] [] [] [] []

6226

22.6 6.26

62.6 6.06

Blank boxes for numbers: [] [] [] [] []



اسم الطالب / _____

الصف / _____

قرب الأعداد التالية لأقرب مائة ويمكنك الاستعانة بخط الأعداد



٧٣٨٠ (ج)

١٥٢٩ (ب)

٤٢٦١ (أ)

٩١٨٦ (و)

٥٤٤٥ (هـ)

٢٢٥٣ (د)

قرب الأعداد التالية لأقرب عشرة ويمكنك الاستعانة بخط الأعداد



٤٦٩ (ج)

٦٣٨٥ (ب)

٧٩١ (أ)

٥١٥٨ (و)

٢٧٦٤ (هـ)

١٠٨٣ (د)

ارم حجر النرد ٤ مرات وسجل الأرقام الأربعة ، كون أصغر عدد وأكبر عدد ، ثم قرب هذه الأعداد لأقرب ١٠ و ١٠٠

العدد الأصغر	العدد الأكبر	<input type="text"/>	<input type="text"/>	<input type="text"/>	<input type="text"/>	العدد الأصغر	العدد الأكبر	<input type="text"/>	<input type="text"/>	<input type="text"/>	<input type="text"/>
التقريب إلى أقرب ١٠						التقريب إلى أقرب ١٠					
التقريب إلى أقرب ١٠٠						التقريب إلى أقرب ١٠٠					

العدد الأصغر	العدد الأكبر	<input type="text"/>	<input type="text"/>	<input type="text"/>	<input type="text"/>	العدد الأصغر	العدد الأكبر	<input type="text"/>	<input type="text"/>	<input type="text"/>	<input type="text"/>
التقريب إلى أقرب ١٠						التقريب إلى أقرب ١٠					
التقريب إلى أقرب ١٠٠						التقريب إلى أقرب ١٠٠					

عزيزي التلميذ المثابر / رتب الأعداد أما تصاعديا أو تنازليا
حسب الصور التي أمامك

٢٧٨ اليوم والتاريخ

٨٧

٦٢٨

٨٢٧

٧١٨



٧٨٠



٨٧٠



٧٢



٨٠٧



١٧٠



٧٨٨



٧٦٢



٨١٧



٨٢٧



٢٦٨



٧٨٧



٩٧٨



٨٠٢



٧٠٠



٢٦٢











عزيزي التلميذ المثابر / رتب الأعداد أما تصاعديا أو تنازليا
حسب الصور التي أمامك



اليوم والتاريخ

٢٦٨٦



٦٦٢٦



٨٦٢٦



٢٦٦٢



٢٧٦٦



٢٦٦٠



٦٧٢٠



٦٠٢



٢٨٠٦



٢٦٦٠



٦٦٧٢



٢٦٠٠



٦٠٠٢



٦٨٢٢



٨٦٢٢



٨٠٢٦



٢٠٦٠



٦٠٢٠



٦٢٨



٢٢٧



عزيزي التلميذ المثابر / رتب الأعداد أما تصاعديا أو تنازليا
حسب الصور التي أمامك



اليوم والتاريخ

٢٨٧٨



٨٨٨٧



٦٧٢٨



١٨٢٧



٧١٧٨



٧٨٨٠



٨١٧٠



٧٠٢



٨٧٠٧



١٨٧٠



٧٨٦٨



٧٦٦٢



٨٢١٧



٨٢٧٧



٢٨٦٨



٧٩٨٧



٩٧٨٨



٨٠٧٢



٧٠٨٠



٢٨٦٢





عزيزي التلميذ المثابر / رتب الأعداد أما تصاعديا أو تنازليا حسب اتجاه السلم الذي أمامك

٦٢٢٦

٢٨٦٦

٢٦٢٢

٦١٢

٦٦٢٦

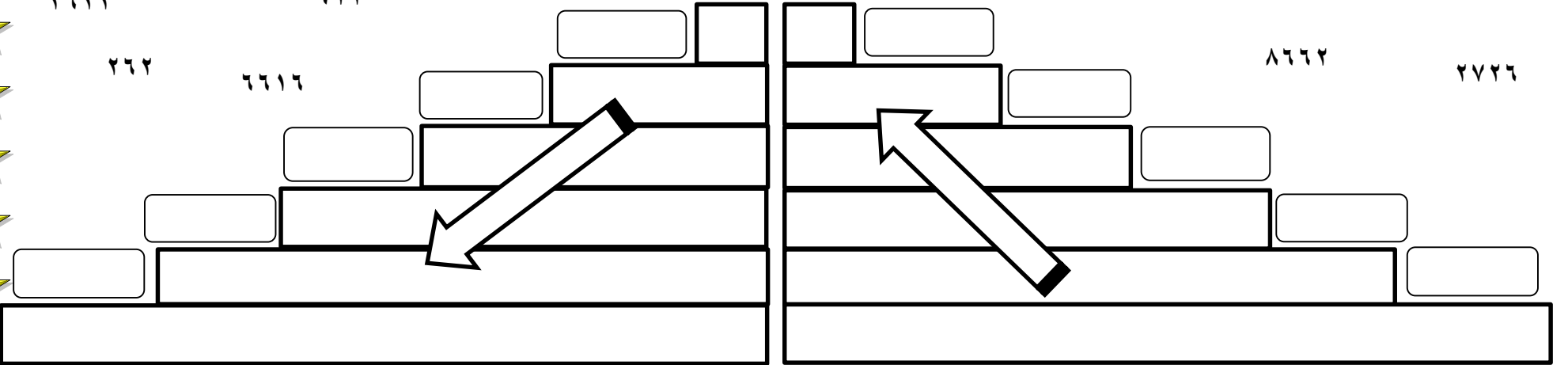
٦٢٦٢

٢٦٢

٦٦١٦

٨٦٦٢

٢٧٢٦



٦٠٨٠

٦٢٦٠

٢٠٦٧

٢٨٦

٢٢٠٦

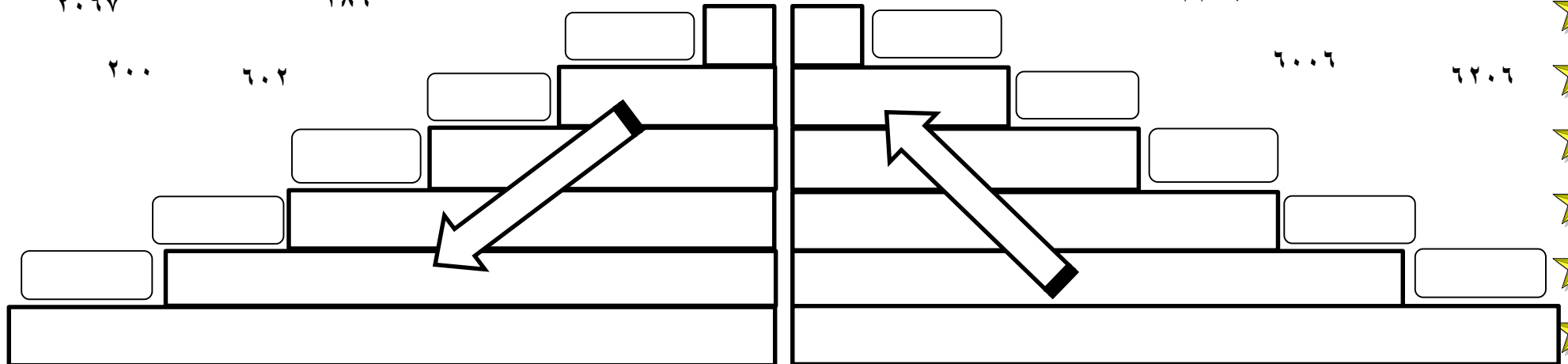
٦٠٢٦

٢٠٠

٦٠٢

٦٠٠٦

٦٢٠٦





عزيزي التلميذ المتأبر / رتب الأعداد أما تصاعديا أو تنازليا حسب اتجاه السلم الذي أمامك

٨٧٢٧

٩٧١٨

٨٨٨

٧٨٧

٨٦٨٧

٨٢٧٧

٢٨٧٧

٨٧٧٨

٧٧٢٨

٧٨١٧

٧٠٠٠

٨٧٨٠

٢٠٨٠

٧٠٨

٧٧٠٨

٨٠٧٨

٨٠٠

٨٠٧

٨٠٠٨

٨٧٠٨



أكتب في قيمة الرقم ٦ في الأعداد الآتية:

٦٤ ٧١٢

هـ

٦ ١٨٠

ج

١ ٦٢٤

أ

٨٦ ٤٠٠

و

٢ ٥١٦

د

٢ ٤٦٣

ب



٦ أضع إشارة < أو > أو = في

١٦٧٠

٣٥٢٩



٦٠٠٠

٦٠٠٠



٧٦٨٢

٩٠٠٠



٥٧٠٠

٢١٢٠



٧٠٤٦

٧٠٣٢



٦٧٣٥

٦٤٧٠



٩٠٠٠

٧٨٠٠



٦٩٩٩

٨٠١٠



٤ أضع دائرة حول الإجابة الصحيحة:

٧٠٣٤

، ٣٤٠٧

، ٤٣٠٧

= ٣٤٠٧



١٢٥٢

، ١١٩٠

، ٢٠٠٠

< ١٢٥٠



٦٠٠٤

، ٤٠٦٠

، ٦٤٠٠

> ٦٠٤٠



