



اليوم والتاريخ



أيها المثابر اكتب الأعداد في مكانها ثم ضع < أو > أو =

مانتان وستة

مانتان وستة عشر

○

اثنا وستون

ستمانه وعشرون

○

سبعة وستون

اثنا وستون

○

ستمانه وستون

وستمانه وستون

○

ثمانية وعشرون

سبعة وعشرون


○

ستمانه واحد وعشرون


وستمانه اثنا عشر

○


رتب الأعداد أما من الأصغر إلى الأكبر أو العكس حسب ما تدل عليه الصور




٨٢٧	٧١٨
٨٧	٦٢٨
	٢٧٨




٨٠٧	١٧٠
٨٧٠	٧٢
	٧٨٠



٨٢٧	٢٦٨
٧٦٢	٨١٧
	٧٨٨



٧٠٠	٢٦٢
٩٧٨	٨٠٢
	٧٨٧



★ ★ ★ ★ ★ ★ ★ ★ ★ ★

اسم الطالب / _____

اللعب مع الأعداد



الصف / _____

★ ★ ★ ★ ★ ★ ★ ★ ★ ★

تعب منار اللعب ببطاقات الأرقام وتكوين أعداد مختلفة



هذه الأعداد التي كونتها منار... اكتب القيمة المكانية للرقم 3 في كل عدد

375

735

537

573

357

استخدم < أو > لجعل العبارات الآتية صحيحة

173 > 135

59 > 57

730 > 703

307 > 357


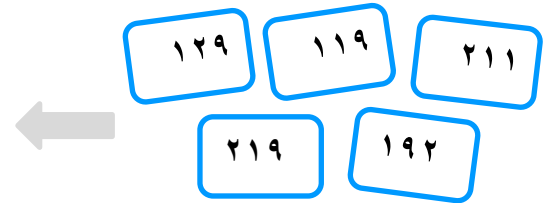
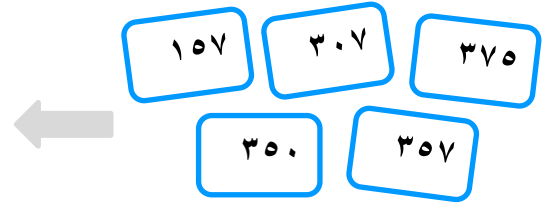
705 > 700

357 > 375

550 > 553

735 > 537

اكتب كل مجموعة بطاقات أعداد بالترتيب مبتدئاً من الأصغر



ورقة عمل (١٧)

اسم الشاطر:- التاريخ:-



هيا يا شاطر .. ضع رمز المقارنة أو أو في المكان المناسب

٦٨٧ ○ ٧١٧

٥٣٤ ○ ٥٨٧

٥٩٩ ○ ٤٩٠

٦.٦ ○ ٦.٦

٧٥٤ ○ ٧٤٥

٣٣٠ ○ ٣١٢

ورقة عمل (١٥)

اسم الشاطر:- التاريخ:-



هيا يا شاطر .. ضع رمز المقارنة أو أو في المكان المناسب

٢٤٤ ○ ٢٠٠

١٢٣ ○ ١٧٨

٢٩٠ ○ ١٩٠

١٩٨ ○ ٥٤

٢٤٣ ○ ٢٤٣

١٥١ ○ ١١٥