

★ ★ ★ ★ ★ ★ ★ ★ ★ ★

إكمال العد




اسم الطالب / _____


الصف / _____

★ ★ ★ ★ ★ ★ ★ ★ ★ ★

اكمل العد بنمط ()



المستوى الأول



★ ★ ★ ★ ★ ★ ★ ★ ★ ★



_____ / اسم الطالب

العد




_____ / الصف

★ ★ ★ ★ ★ ★ ★ ★ ★ ★



المستوى الأول



الاسم /-----/ الصف /-----/ التاريخ /-----/

العد آحاد وعشرات ومئات

← عد تصاعديا آحاد ثم اكمل الفراغات في السلسلة

- أ) ٢٥٦ ، ٢٥٧ ، ٢٥٨ ، _____ ، _____ ، _____ ، _____ ، _____ ، _____ ، _____
- ب) ٧٢١ ، ٧٢٢ ، ٧٢٣ ، _____ ، _____ ، _____ ، _____ ، _____ ، _____ ، _____
- ج) ٤٨٣ ، ٤٨٤ ، ٤٨٥ ، _____ ، _____ ، _____ ، _____ ، _____ ، _____ ، _____
- د) ٦٩٦ ، ٦٩٧ ، ٦٩٨ ، _____ ، _____ ، _____ ، _____ ، _____ ، _____ ، _____

← عد تصاعديا عشرات ثم اكمل الفراغات في السلسلة

- ت) ١٣٠ ، ١٤٠ ، ١٥٠ ، _____ ، _____ ، _____ ، _____ ، _____ ، _____ ، _____
- ث) ٨١٨ ، ٨٢٨ ، ٨٣٨ ، _____ ، _____ ، _____ ، _____ ، _____ ، _____ ، _____
- ج) ٩٠٤ ، ٩١٤ ، ٩٢٤ ، _____ ، _____ ، _____ ، _____ ، _____ ، _____ ، _____
- د) ٣٦٧ ، ٣٧٧ ، ٣٨٧ ، _____ ، _____ ، _____ ، _____ ، _____ ، _____ ، _____

← عد تصاعديا مئات ثم اكمل الفراغات في السلسلة

- ج) ١٠١ ، ٢٠١ ، ٣٠١ ، _____ ، _____ ، _____ ، _____ ، _____ ، _____ ، _____
- ح) ٢٢٩ ، ٣٢٩ ، ٤٢٩ ، _____ ، _____ ، _____ ، _____ ، _____ ، _____ ، _____
- ج) ٥٠ ، ١٥٠ ، ٢٥٠ ، _____ ، _____ ، _____ ، _____ ، _____ ، _____ ، _____
- د) ٣٣٤ ، ٤٣٤ ، ٥٣٤ ، _____ ، _____ ، _____ ، _____ ، _____ ، _____ ، _____





الاسم /-----/ الصف /-----/ التاريخ /-----/

العد بأنماط مختلفة

← اكمل سلاسل الأعداد حسب نمط العد المطلوب تصاعديا أو تنازليا




الاسم /

الصف /

التاريخ /

اكمل سلسلة الأعداد :



الاسم /

الصف /

التاريخ /

اكمل سلسلة الأعداد :

