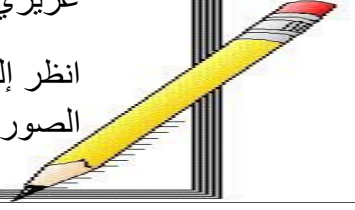


عزيزي التلميذ /

انظر إلى الصور جيدا ثم صل كل صورة بالصورة المرتبطة بها بشرط تطابق الاعداد داخل الصورتين .



1

9 8 7 6 5 4 3 2 1

2

9 8 7 6 5 4 3 2 1

3

9 8 7 6 5 4 3 2 1

★ ★ ★ ★ ★ ★ ★ ★ ★ ★

اسم الطالب / _____

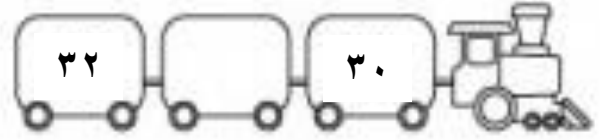

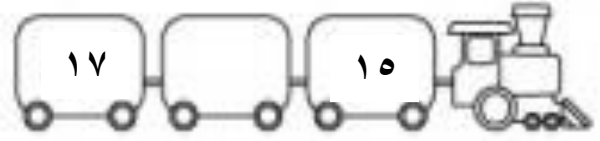
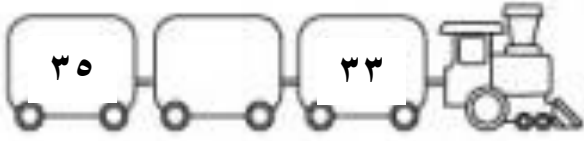
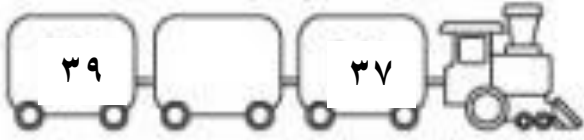
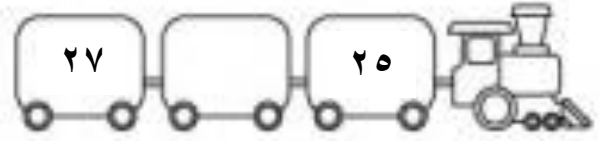
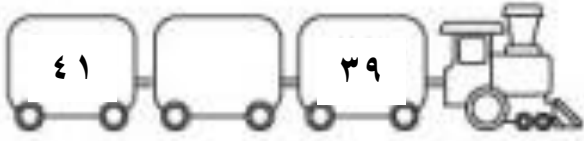

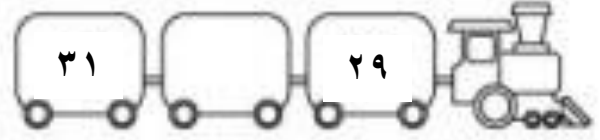

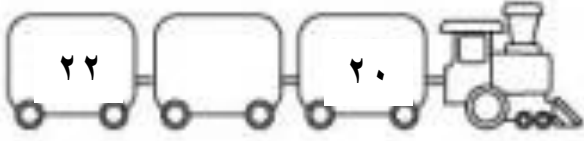


الصف / _____

★ ★ ★ ★ ★ ★ ★ ★ ★ ★


بين عددين




اكتب الأعداد التي تأتي بين العددين في كل قطار



المستوى الأول



القيمة المكانية حتى 100



التعليمات :- يجيب التلميذ أولاً شفهيًا على كل أسئلة التدريب بدون كتابة الإجابة، ثم يعاد له التدريب مرة أخرى بحيث يصل إلى الأجابة بنفسه ويكتبها.

اكمل سلسلة الأعداد بنمط (1+)

○	○	○	○	○	65	64	63
○	○	○	○	○	56	55	54
○	○	○	○	○	78	77	76

اكمل سلسلة الأعداد بنمط (1-)

○	○	○	○	○	38	39	40
○	○	○	○	○	86	87	88
○	○	○	○	○	52	53	54

في حالة وجود أكثر من ثلاثة أخطاء يعاد التدريب أما باستخدام المحسوسات أو تدريب آخر مثله ولا ينتقل إلى التدريب التالي

عدد الأخطاء ()

أتقن ()
أخطأ ()


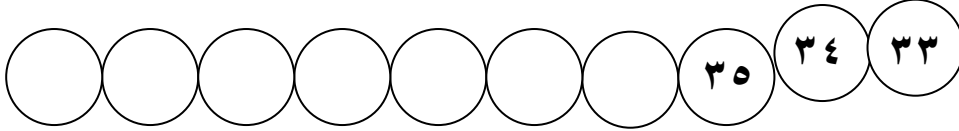
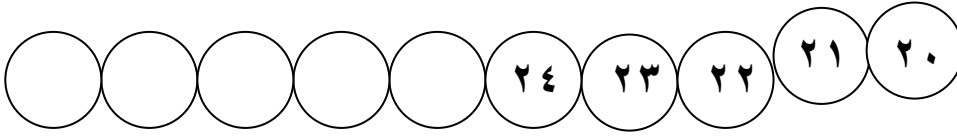
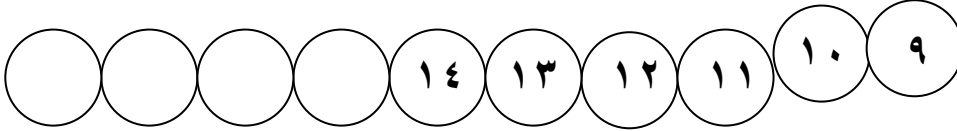
ملاحظات أداء التلميذ :



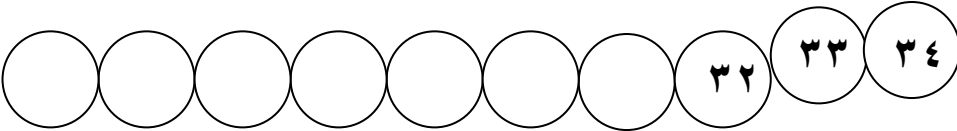
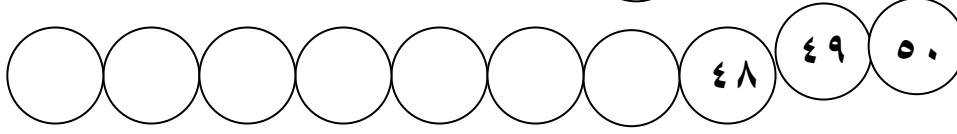
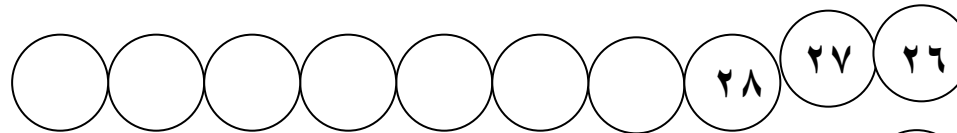
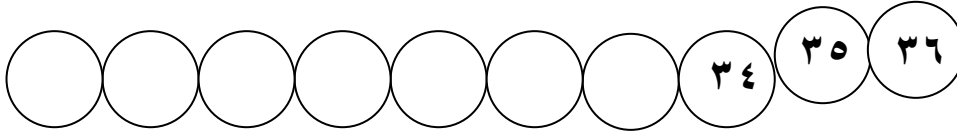
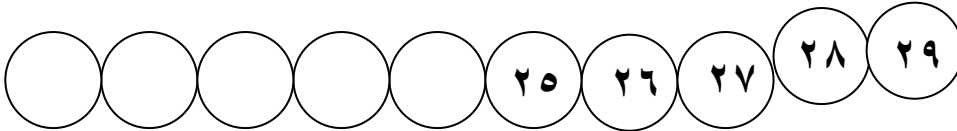
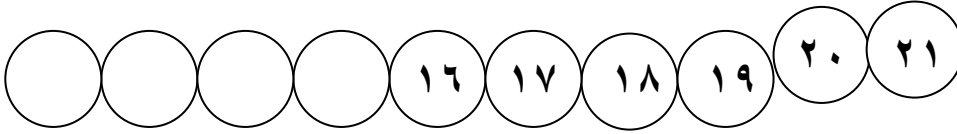
الاسم /-----/ الصف /-----/ التاريخ /-----/

العد تصاعدي وتنازلي

← اكمل كتابة سلسلة الأعداد أما تصاعديا أو تنازليا



om





اسم الطالب / _____

الصف / _____

اكمل العد بنمط ()

